



Apoi după toate problemele de geometrie cu care s-a vădit necesară, într-un fel sau altul, utilizarea unor construcții auxiliare. Totuși, elevilor nu le este permis să identifice în mod arbitrar construcții auxiliare în cadrul unui anumit grup de probleme.

În unele probleme sunt vizibile construcții auxiliare care pot fi realizate o dată cu construcțiile auxiliare principale sau de este clar că acestea sunt necesare pentru rezolvarea problemei. Unele construcții auxiliare pot fi realizate în moduri diferite de cele prezentate în acest manual. Unele construcții auxiliare pot fi realizate în moduri diferite de cele prezentate în acest manual. Unele construcții auxiliare pot fi realizate în moduri diferite de cele prezentate în acest manual.

Când o problemă este construită cu construcții auxiliare, este necesar să se demonstreze că acestea sunt necesare pentru rezolvarea problemei. În unele probleme este clar că acestea sunt necesare pentru rezolvarea problemei. În unele probleme este clar că acestea sunt necesare pentru rezolvarea problemei.

construcțiile auxiliare

în rezolvarea problemelor de geometrie plană



Ediția a II-a



ARGUMENT 5

Respect pentru oameni și cărți

PARTEA ÎNTÂI – SCURTĂ PREZENTARE GENERALĂ

| | |
|--|----|
| I. Prezentare generală a metodei | 7 |
| II. Rezultate importante din geometrie ale căror demonstrații se bazează pe construcții auxiliare..... | 9 |
| III. Câteva probleme frumoase de geometrie care se rezolvă prin mai multe metode, în funcție de construcția auxiliară aleasă | 18 |

PARTEA A DOUA – PROBLEME PROPUSE

| | |
|---|----|
| CAPITOLUL I – Construcția unui segment | 34 |
| CAPITOLUL II – Construcția unui unghi | 38 |
| CAPITOLUL III – Construcția unei paralele la o dreaptă dată | 40 |
| CAPITOLUL IV – Construcția unei perpendiculare pe o dreaptă dată | 43 |
| CAPITOLUL V – Evidențierea mijlocului unui segment | 49 |
| CAPITOLUL VI – Construcția simetricului unui punct față de o dreaptă sau față de un punct | 56 |
| CAPITOLUL VII – Evidențierea punctului de intersecție a două drepte..... | 59 |
| CAPITOLUL VIII – Construcția unui poligon sau a unui cerc | 64 |

PARTEA A TREIA – INDICAȚII

| | |
|---|----|
| CAPITOLUL I – Construcția unui segment | 67 |
| CAPITOLUL II – Construcția unui unghi..... | 68 |
| CAPITOLUL III – Construcția unei paralele la o dreaptă dată | 69 |
| CAPITOLUL IV – Construcția unei perpendiculare pe o dreaptă dată | 70 |
| CAPITOLUL V – Evidențierea mijlocului unui segment | 72 |
| CAPITOLUL VI – Construcția simetricului unui punct față de o dreaptă sau față de un punct | 74 |
| CAPITOLUL VII – Evidențierea punctului de intersecție a două drepte | 75 |
| CAPITOLUL VIII – Construcția unui poligon sau a unui cerc..... | 76 |

PARTEA A PATRA – SOLUȚII

| | |
|---|-----|
| CAPITOLUL I – Construcția unui segment | 78 |
| CAPITOLUL II – Construcția unui unghi..... | 106 |
| CAPITOLUL III – Construcția unei paralele la o dreaptă dată | 118 |
| CAPITOLUL IV – Construcția unei perpendiculare pe o dreaptă dată..... | 137 |
| CAPITOLUL V – Evidențierea mijlocului unui segment | 171 |
| CAPITOLUL VI – Construcția simetricului unui punct față de o dreaptă sau față de un punct | 210 |
| CAPITOLUL VII – Evidențierea punctului de intersecție a două drepte | 232 |
| CAPITOLUL VIII – Construcția unui poligon sau a unui cerc..... | 256 |

BIBLIOGRAFIE 273

I. Prezentare generală a metodei

Când o problemă de geometrie cere construcție auxiliară, dificultatea ei crește, provocarea constând în a decide în ce mod să completăm figura dată, astfel încât acest lucru să ne ajute, simplificând demonstrația și nu complicând-o. Folosirea construcției auxiliare indică o înțelegere profundă a geometriei. Desenele sunt elemente pentru cercetare, completarea acestora dovedind dobândirea unor abilități creative foarte importante în rezolvarea problemelor de geometrie.

Prezentăm, în continuare, câteva sfaturi utile în rezolvarea problemelor de geometrie în general și în special în rezolvarea problemelor care necesită construcții auxiliare:

- Când nu găsești răspunsul imediat, încearcă să afli ce poți. Se poate să găsești ceva care să te conducă la concluzie. Mai mult, poți afla ceva mai interesant decât cerința problemei.
- Să rezolvi o problemă în două moduri diferite este o cale foarte bună să verifici corectitudinea soluției.
- Câteodată, utilizarea metodei reducerii la absurd este mult mai ușoară și mai eficientă decât demonstrația directă.
- În probleme mai complicate de geometrie marchează laturile congruente și unghiurile congruente pe măsură ce le descoperi, îndeosebi pe cele care nu sunt evidente.
- Când nu ajungi la rezultat întreabă-te ce informație din ipoteză nu ai folosit.
- Încearcă să rezolvi o problemă mai ușoară, înrudită cu problema dată. Selectează o parte a condițiilor din ipoteză, realizează un desen doar cu aceste date și poate obții ceva folositor.
- Adesea este bine să încerci câteva exemple înainte de a demonstra un rezultat general. Aceste exemple pot fi o bună călăuză în a descoperi răspunsul căutat.
- Uneori, parcurgând întâi drumul înapoi de la concluzie spre ipoteză, vei putea descoperi soluția problemei.
- Dacă nu vezi rezolvarea problemei imediat, nu abandona. Este util să faci câteva observații, scrie alături demonstrațiile acestora și, poate, vei reuși să combini aceste rezultate pentru a completa rezolvarea problemei.

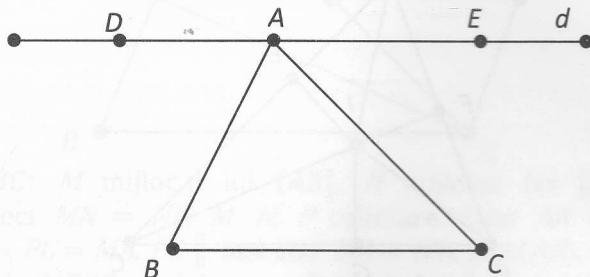
- În problemele de geometrie, explorarea acestora cere să realizezi un desen mare și curat, respectând măsura unghiurilor, lungimile laturilor fiind proporționale cu cele din enunț. Când găsești o nouă informație ar trebui să refaci desenul folosind noile date. Acest fapt te ajută foarte mult în rezolvarea problemei.
- Unind puncte care inițial nu au fost unite poate fi extrem de util. Asta nu înseamnă să unim toate punctele din desen. Caută segmente care pot fi de ajutor în demonstrație, cele care unesc puncte importante sau cele care formează unghiuri, triunghiuri, patrulatere despre care poți afla ceva imediat.
- Dacă ai două dintre liniile importante în triunghi (de același tip), ar trebui să folosești proprietatea punctului de intersecție și să construiești a treia linie de tipul respectiv.
- Când te-ai blocat într-o demonstrație, notează măsura unuia dintre unghiuri cu o variabilă și încearcă să afli alte măsuri de unghiuri în funcție de această variabilă. Formează o ecuație pentru a afla variabila.
- În multe probleme de geometrie există informații ascunse vederii. Prelungind segmente care par să se termine brusc (în special în interiorul unui triunghi sau patrulater) poți obține rezultate deosebite.
- Dreptele paralele sunt utile în problemele care implică unghiuri, deci, uneori, vei adăuga noi drepte paralele în desen.
- Spărgând un unghi, un segment, o suprafață în mai multe părți, de multe ori poți afla informații folositoare demonstrației.
- O construcție auxiliară foarte utilizată este perpendiculara dintr-un punct pe o dreaptă. Scopul tău este să construiești triunghiuri dreptunghice sau dreptunghiuri ale căror proprietăți să le exploatezi în demonstrația ta. De asemenea, poți evidenția distanțele de la un punct al bisectoarei unui unghi la laturile unghiului, folosind faptul că acestea sunt egale.
- Unghiurile cu măsurile de 30° , 60° , 45° , chiar și suplementele lor, sunt adesea bune pentru a construi triunghiuri dreptunghice cunoscute. Poți face acest lucru ducând perpendiculare sau prelungind segmente.
- Dacă, într-o problemă, se dă mijlocul unui segment, este util să evidențiezi mijlocul unui alt segment care are cu segmentul dat un capăt comun, obținând astfel o linie mijlocie într-un triunghi, linie ale cărei proprietăți le vei folosi în rezolvarea problemei.
- Tot în cazul de mai sus, poți construi un segment al cărui mijloc coincide cu mijlocul segmentului dat, obținând astfel un paralelogram de proprietățile căruia vei beneficia în demersul tău pentru obținerea rezultatului.
- Dacă ai utilizat cu succes o anumită tactică pentru a obține noi informații, dar nu ai rezolvat încă problema, încearcă să utilizezi aceeași tactică într-o altă situație. Poți obține noi informații utile.

II. Rezultate importante din geometrie ale căror demonstrații se bazează pe construcții auxiliare

Respect pentru oameni și cărți

Cel mai cunoscut rezultat din geometrie care se demonstrează cu ajutorul construcțiilor auxiliare este următoarea teoremă:

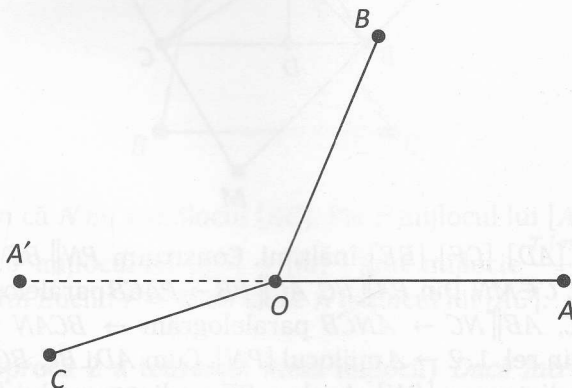
Teorema 1. Suma măsurilor unghiurilor unui triunghi este 180° .



Dem. Fie $\triangle ABC$. Construim prin A o paralelă la BC pe care considerăm punctele D și E astfel încât $[BD] \cap AC = \emptyset$, $A \in (DE)$. Din $DE \parallel BC$ (AB secantă) $\rightarrow \widehat{DAB} \equiv \widehat{ABC}$ (1) (alterne interne). Din $DE \parallel BC$ (AC secantă) $\rightarrow \widehat{EAC} \equiv \widehat{ACB}$ (2) (alterne interne). Din $m\widehat{DAE} = 180^\circ \rightarrow m\widehat{DAB} + m\widehat{BAC} + m\widehat{CAE} = 180^\circ \xrightarrow{cf.1,2} m\widehat{ABC} + m\widehat{BAC} + m\widehat{ACB} = 180^\circ$.

Prezentăm în continuare alte câteva rezultate deosebite care se demonstrează cu ajutorul construcțiilor auxiliare.

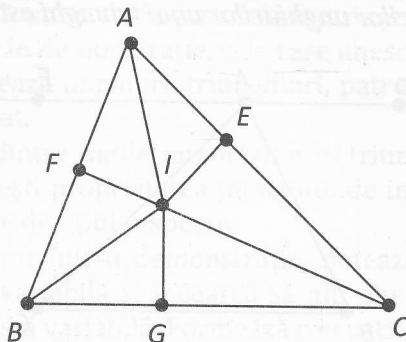
Teorema 2. Suma măsurilor unghiurilor formate în jurul unui punct este 360° .



Dem. Demonstrăm teorema pentru cele 3 unghiuri în jurul punctului O din figura alăturată. Teorema se demonstrează asemănător pentru oricâte unghiuri

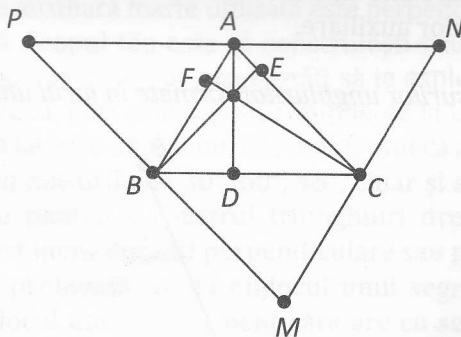
în jurul unui punct. Construim semidreapta $[OA'$ opusă semidreptei $[OA$ (1).
 Din $A' \in \text{Int}\widehat{BOC} \rightarrow m\widehat{BOC} = m\widehat{BOA'} + m\widehat{A'OC}$. Avem $m\widehat{A'OB} + m\widehat{BOA} = 180^\circ$
 (cf. 1), $m\widehat{A'OC} + m\widehat{COA} = 180^\circ$ (cf. 1) deci $m\widehat{AOB} + m\widehat{BOC} + m\widehat{COA} = (m\widehat{AOB} +$
 $+ m\widehat{BOA'}) + (m\widehat{A'OC} + m\widehat{COA}) = 180^\circ + 180^\circ = 360^\circ$.

Teorema 3. Într-un triunghi cele 3 bisectoare sunt concurente.



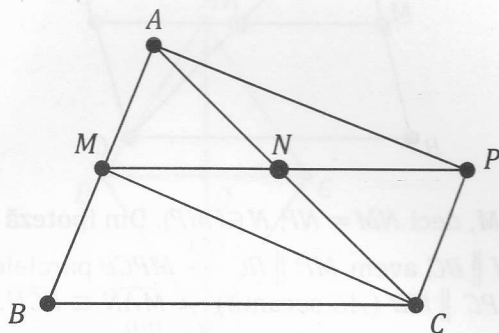
Dem. Notăm cu I intersecția bisectoarelor lui \hat{A} și \hat{B} . Construim $IF \perp AB$, $F \in AB$,
 $IE \perp AC$, $E \in AC$, $IG \perp BC$, $G \in BC$. Din $I \in$ bisectoarei lui $\hat{A} \rightarrow IF = IE$ (1). Din $I \in$
 bisectoarei lui $\hat{B} \rightarrow IF = IG$ (2). Din rel. 1, 2 $\rightarrow IE = IG \rightarrow I \in$ bisectoarei lui $\hat{C} \rightarrow$
 \rightarrow cele 3 bisectoare sunt concurente în I .

Teorema 4. Într-un triunghi dreptele suport ale înălțimilor sunt concurente.



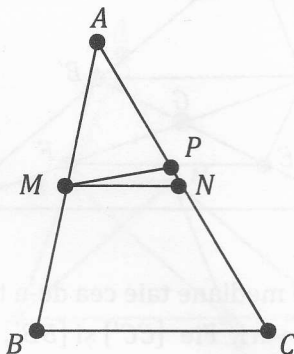
Dem. Fie ΔABC , $[AD]$, $[CF]$, $[BE]$ înălțimi. Construim $PN \parallel BC$, $A \in PN$, $PM \parallel AC$,
 $B \in PM$, $MN \parallel AB$, $C \in MN$. Din $PA \parallel BC$, $AC \parallel PB \rightarrow PACB$ paralelogram $\rightarrow PA = BC$
 (1). Din $AN \parallel BC$, $AB \parallel NC \rightarrow ANCB$ paralelogram $\rightarrow BC = AN$ (2). Din rel. 1, 2 $\rightarrow A$ mijlocul $[PN]$. Cum $AD \perp BC$, $BC \parallel PN \rightarrow AD \perp PN$,
 deducem AD mediatoarea $[PN]$. Analog BE mediatoarea lui $[PM]$, CF mediatoarea
 lui $[MN]$, deci AD , BE , CF concurente. (Mediatoarele laturilor unui triunghi sunt concurente.)

Teorema 5. (Teorema liniei mijlocii) Într-un triunghi, segmentul care unește mijloacele a două laturi este paralel cu cea de-a treia și are lungimea egală cu jumătate din lungimea acesteia.



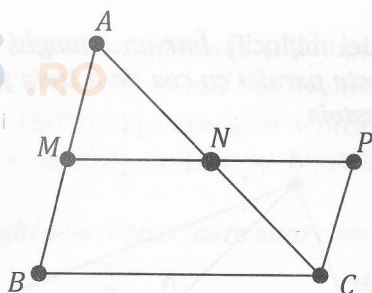
Dem. Fie $\triangle ABC$: M mijlocul lui $[AB]$, N mijlocul lui $[AC]$. Construim $P = sim_N M$, deci $MN = NP$, M, N, P coliniare. Cum $AN = NC \rightarrow APCM$ paralelogram $\rightarrow PC = MA$, $PC \parallel MA$. Dar $MA = MB$, $M \in (AB)$, deci $MB = PC$ și $MB \parallel PC$, de unde $MBPC$ paralelogram. Rezultă $MP \parallel BC$ și $MP = BC$ și de aici $MN = \frac{1}{2}MP = \frac{1}{2}BC$, $MN \parallel BC$.

Teorema 6. (Reciproca 1 a teoremei liniei mijlocii) Dacă într-un triunghi $\triangle ABC$, M mijlocul $[AB]$, $MN \parallel BC$, $N \in AC$ atunci N mijlocul $[AC]$.



Dem. Presupunem că N nu e mijlocul $[AC]$. Fie P mijlocul lui $[AC]$. În $\triangle ABC$: M mijlocul lui $[AB]$, P mijlocul lui $[AC] \rightarrow [MP]$ linie mijlocie $\xrightarrow{T.l.m.} MP \parallel BC$, deci avem cf. axiomei lui Euclid $P = N$, de unde N mijlocul lui $[AC]$.

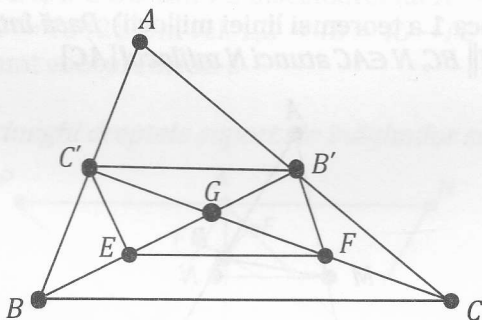
Teorema 7. (Reciproca 2 a teoremei liniei mijlocii) Dacă într-un $\triangle ABC$, $M \in (AB)$, $N \in (AC)$ și $MN = \frac{BC}{2}$, atunci M mijlocul lui $[AB]$, N mijlocul lui $[AC]$.



Dem. Fie $P = \text{sim}_N M$, deci $NM = NP$, $N \in (MP)$. Din ipoteză $BC = 2MN$, deci $BC = MP$ (1). Cum $MN \parallel BC$, avem $MP \parallel BC \xrightarrow{\text{cf.1}}$ $MPCB$ paralelogram $\rightarrow PC = MB$ (2), $PC \parallel MB$. Din $PC \parallel MB$ (AC secantă) $\rightarrow \widehat{MAN} \equiv \widehat{PCN}$. Fie $\Delta MAN, \Delta PCN$: $\widehat{ANM} \equiv \widehat{CNP}$ (op.vf.), $MN = NP$, $\widehat{MAN} \equiv \widehat{PCN} \xrightarrow{\text{UUL}}$ $\Delta MAN \equiv \Delta PCN \rightarrow PC = MA$ (3), $AN = NC$ (4). Din rel. 2, 3 $\rightarrow MA = MB \rightarrow M$ mijlocul lui $[AB]$. Din rel.4 $\rightarrow N$ mijlocul lui $[AC]$.

Obs. Problema se poate rezolva folosind T.F.A.

Teorema 8. Medianele unui triunghi sunt concurente.

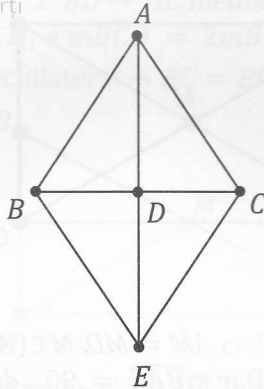


Dem. Arătăm că două dintre mediane taie cea de-a treia mediană într-un punct aflat la $\frac{1}{3}$ de bază și $\frac{2}{3}$ de vârf. Fie $[CC']$ și $[BB']$ două mediane ale ΔABC . Considerăm mijlocul E al lui $[BG]$ și mijlocul F al lui $[GC]$. În ΔGBC : $[EF]$ linie mijlocie $\xrightarrow{\text{T.l.m.}}$ $EF \parallel BC$, $EF = \frac{1}{2} BC$ (1).

În ΔABC : $[C'B']$ linie mijlocie $\xrightarrow{\text{T.l.m.}}$ $C'B' \parallel BC$, $C'B' = \frac{1}{2} BC$ (2). Din rel. 1, 2 $\rightarrow C'B' \parallel EF$, $C'B' = EF \rightarrow C'B'FE$ paralelogram $\rightarrow C'G = GF = FC = \frac{1}{3} C'C \rightarrow [BB']$ taie $[CC']$ la $\frac{1}{3}$ de bază și $\frac{2}{3}$ de vârf. Analog, $[AA']$ taie $[CC']$ la $\frac{1}{3}$ de bază și $\frac{2}{3}$ de vârf, deci medianele unui triunghi sunt concurente.

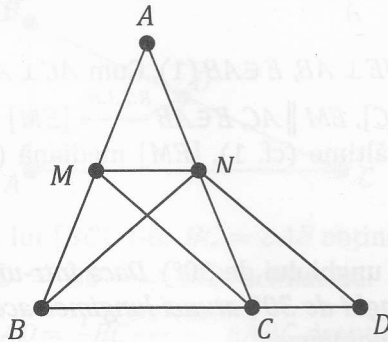
Teorema 9. Dacă într-un triunghi o mediană este și bisectoare, atunci triunghiul este isoscel.

Respect pentru oameni și cărți



Dem. Fie $\triangle ABC$: $[AD]$ mediană și bisectoare. Construim $E = sim_D A$, deci $AD = DE$, $D \in (AE)$. Cum $BD = DC$, avem $ABEC$ paralelogram, de unde $CE \parallel AB$ (1) și $CE = AB$ (2). Din $CE \parallel AB$ (AE secantă) $\rightarrow \widehat{BAE} \equiv \widehat{AEC}$ (alterne interne). Dar $\widehat{BAE} \equiv \widehat{EAC}$ (ip.), deci $\widehat{EAC} \equiv \widehat{AEC} \rightarrow \triangle AEC$ isoscel: $AC = CE \xrightarrow{cf. 2} AB = AC$.

Teorema 10. Dacă într-un triunghi două mediane sunt congruente, atunci triunghiul este isoscel.

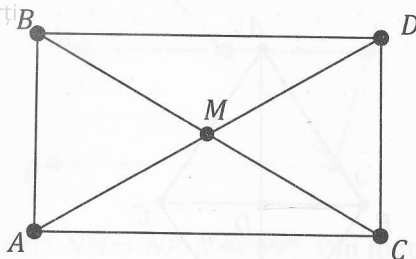


Dem. Fie $\triangle ABC$: $[MC]$, $[BN]$ mediane, $MC = BN$. Construim $ND \parallel MC$, $D \in BC$ (1). În $\triangle ABC$: $[MN]$ linie mijlocie $\xrightarrow{T.l.m.} MN \parallel BC \rightarrow MN \parallel CD \xrightarrow{cf.1} MNCD$ paralelogram $\rightarrow ND \parallel MC$, $ND = MC$. Din $ND \parallel MC$ (BD secantă) $\rightarrow \widehat{MCB} \equiv \widehat{NDB}$ (corespondente) (2).

Din $ND = MC$, $MC = BN$ (ip.) $\rightarrow NB = ND \rightarrow \triangle BND$ isoscel: $\widehat{NBD} \equiv \widehat{NDB} \xrightarrow{cf. 2} \widehat{NBC} \equiv \widehat{MCB}$. Fie $\triangle MCB$, $\triangle NBC$: $BC = BC$, $\widehat{NBC} \equiv \widehat{MCB}$, $MC = NB \xrightarrow{LUL} \triangle MCB \equiv \triangle NBC \rightarrow NC = MB \rightarrow 2NC = 2MB \rightarrow AC = AB \rightarrow \triangle ABC$ isoscel.

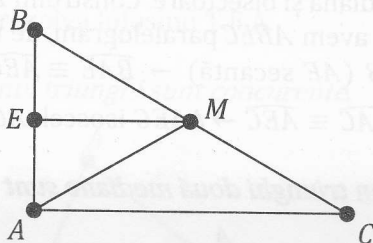
Teorema 11. (Teorema medianei) Într-un triunghi dreptunghic, lungimea medianei corespunzătoare ipotenuzei este egală cu jumătate din lungimea ipotenuzei.

Respect pentru oameni și cărți



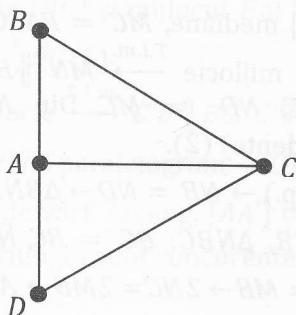
Dem.

Metoda 1. Construim $D = sim_M A$, deci $AM = MD$, $M \in (AD)$. Cum $BM = MC$ (ip.), deducem că $ABDC$ paralelogram. Dar $m\widehat{BAC} = 90^\circ$, deci $ABDC$ dreptunghi $\rightarrow AD = BC \rightarrow AM = \frac{1}{2}AD = \frac{1}{2}BC$.



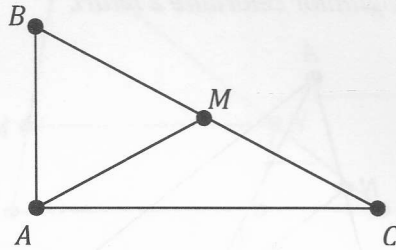
Metoda 2. Construim $ME \perp AB$, $E \in AB$ (1). Cum $AC \perp AB$, deducem $EM \parallel AC$. În ΔABC : M mijlocul lui $[BC]$, $EM \parallel AC$, $E \in AB \xrightarrow{R.T.l.m.} [EM]$ linie mijlocie $\rightarrow EB = EA$ (2). În ΔABM : $[EM]$ înălțime (cf. 1), $[EM]$ mediană (cf. 2) $\rightarrow \Delta ABM$ isoscel: $AM = BM = \frac{1}{2}BC$.

Teorema 12. (Teorema unghiului de 30°) Dacă într-un triunghi dreptunghic o catetă se opune unui unghi de 30° , atunci lungimea acestei catete este egală cu jumătate din lungimea ipotenuzei.



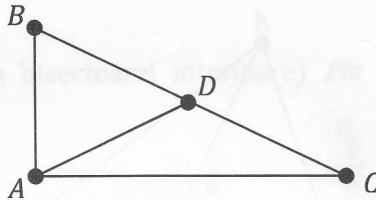
Dem.

Metoda 1. Fie $\triangle ABC$ ($m\hat{A} = 90^\circ$): $m\hat{C} = 30^\circ$. Construim $D = sim_A B$, deci $BA = AD$, $A \in (BD)$. Cum $AC \perp BD \rightarrow AC$ mediatoarea lui $[BD] \rightarrow \triangle CBD$ isoscel $\rightarrow [AC]$ bisectoare în $\triangle BCD \rightarrow m\widehat{BCD} = 2m\widehat{BCA} = 60^\circ$. Deci $\triangle BCD$: $BC = CD$, $m\widehat{BCD} = 60^\circ \rightarrow \triangle BCD$ echilateral $\rightarrow BC = BD \rightarrow AB = \frac{1}{2}BD = \frac{1}{2}BC$.



Metoda 2. Considerăm M mijlocul lui $[BC]$. În $\triangle ABC$ ($m\hat{A} = 90^\circ$): $[AM]$ mediană $\xrightarrow{T.med.} AM = MC = MB$. În $\triangle AMC$: $AM = MC \rightarrow m\widehat{MAC} = m\widehat{MCA} = 30^\circ \rightarrow m\widehat{BMA} = m\widehat{MAC} + m\widehat{MCA} = 60^\circ$ (unghi exterior). În $\triangle ABM$: $AM = MB$, $m\widehat{BMA} = 60^\circ \rightarrow \triangle ABM$ echilateral $\rightarrow AB = BM = \frac{1}{2}BC$.

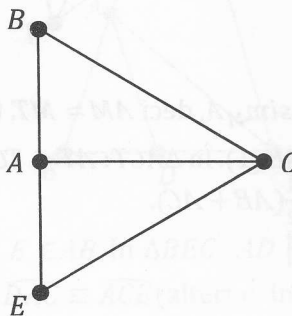
Teorema 13. Dacă într-un $\triangle ABC$, $m\widehat{ABC} = 60^\circ$, $BC = 2AB$, atunci $m\widehat{BAC} = 90^\circ$.



Dem.

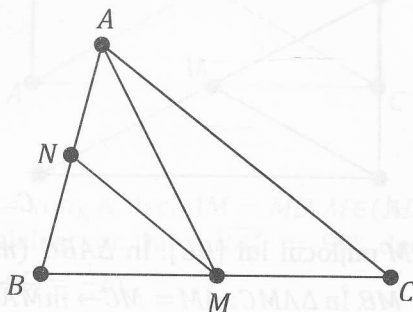
Metoda 1. Fie D mijlocul lui $[BC]$. Din $BC = 2AB$ obținem $AB = BD = DC$. În $\triangle ABD$: $AB = BD$, $m\widehat{ABD} = 60^\circ \rightarrow \triangle ABD$ echilateral $\rightarrow AB = BD = \frac{1}{2}BC$.

În $\triangle ABC$: $[AD]$ mediană, $AD = \frac{1}{2}BC \xrightarrow{R.T.med.} \triangle ABC$ dreptunghic ($m\widehat{BAC} = 90^\circ$).



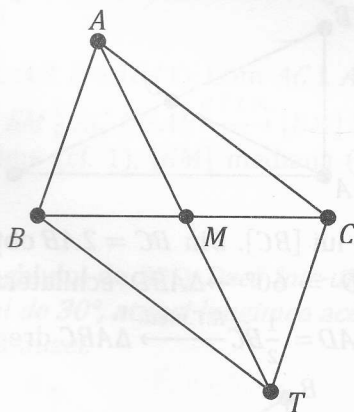
Metoda 2. Fie $E = sim_A B$, deci $AE = AB$. Din $BC = 2AB$ obținem $BC = BE$. În $\triangle BEC$: $BE = BC$, $m\widehat{EBC} = 60^\circ \rightarrow \triangle BEC$ echilateral. În $\triangle BEC$ echilateral: $[CA]$ mediană $\rightarrow [CA]$ înălțime $\rightarrow m\widehat{BAC} = 90^\circ$.

Teorema 14. Într-un triunghi, mediana corespunzătoare oricărei laturi este mai mică decât suma lungimilor celorlalte 2 laturi.



Dem.

Metoda 1. Considerăm N mijlocul lui $[AB]$, M mijlocul lui $[BC]$. În $\triangle ABC$: $[MN]$ linie mijlocie $\xrightarrow{T.l.m.} MN = \frac{AC}{2}$. În $\triangle ANM$: $AM < AN + NM \rightarrow AM < \frac{AB}{2} + \frac{AC}{2} \rightarrow AM < \frac{1}{2}(AB + AC)$.



Metoda 2. Considerăm $T = sim_M A$, deci $AM = MT$. Cum $BM = MC$, deducem că $ABTC$ paralelogram $\rightarrow TC = AB$ (1). În $\triangle ACT$: $AT < TC + AC \xrightarrow{cf. 1} AT < AB + AC \rightarrow 2AM < AB + AC \rightarrow AM < \frac{1}{2}(AB + AC)$.