

# TESTUL 1



Elevii clasei a doua au mers la magazinul de instrumente muzicale împreună cu profesorul de muzică. Ei vor să achiziționeze instrumente muzicale pentru orchestra școlii.



460 lei



525 lei



118 lei



645 lei

1 Care este ordinea crescătoare a instrumentelor, în funcție de prețul lor?  
**Încercuiește litera corespunzătoare răspunsului corect.**

- a) nai, flaut, tobă, vioară
- b) vioară, nai, tobă, flaut
- c) flaut, nai, vioară, tobă
- d) flaut, nai, tobă, vioară

2 Ce instrument muzical poate cumpăra Vlad dacă are bancnota din imagine?  
**Încercuiește litera corespunzătoare răspunsului corect.**

- a) nai
- b) tobă
- c) flaut
- d) vioară



3 Care dintre operațiile de mai jos trebuie efectuată pentru a afla cât costă împreună o vioară și un flaut?  
**Încercuiește litera corespunzătoare răspunsului corect.**

- a)  $645 - 118$
- b)  $525 + 118$
- c)  $645 + 118$
- d)  $460 + 118$



4 Bunicii i-au dat Ioanei 500 lei. De câți lei mai are nevoie fetița pentru a cumpăra toba?

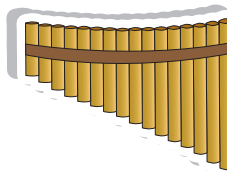
**Încercuiește litera corespunzătoare răspunsului corect.**

- a) 125 lei
- b) 25 lei
- c) 100 lei
- d) 525 lei

5 Care este corpul geometric care are aceeași formă ca și tuburile naiului?


**Încercuiește litera corespunzătoare răspunsului corect.**

- a) cub
- b) con
- c) cuboid
- d) cilindru



6 Pe raftul magazinului, instrumentele sunt așezate ca în imaginea de mai jos.

**Observă modelul și completează propoziția de sub imagine.**

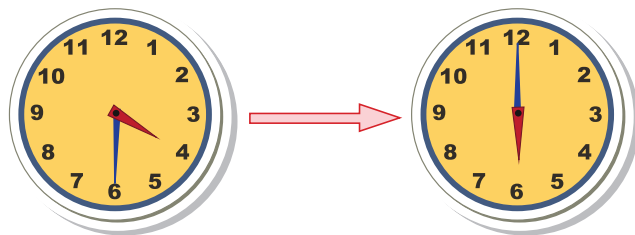


Următorul instrument în șir este \_\_\_\_\_ .

7 Cât timp repetă într-o zi copiii, dacă se întâlnesc la ora 16 : 30 și pleacă acasă la ora 18 : 00?

**Încercuiește litera corespunzătoare răspunsului corect.**

- a) 1 oră și 30 minute
- b) 2 ore și 30 minute
- c) 30 minute
- d) 3 ore și 30 minute





8 Împreună cu profesorul de muzică, elevii au stabilit că se vor întâlni pentru repetiții de 3 ori pe săptămână: luni, miercuri și vineri. Observă calendarul și descoperă de câte ori se vor întâlni copiii în luna mai.

**Încercuiește litera corespunzătoare răspunsului corect.**

- a) de 12 ori
- b) de 13 ori
- c) de 4 ori
- d) de 8 ori



9 Observă corpurile din imagini și alege-le doar pe cele care nu lasă curentul să treacă prin ele.

**Încercuiește litera corespunzătoare răspunsului corect.**



1



2



3



4



5



6

- a) 1, 4, 6
- b) 2, 3, 5
- c) 1, 4, 5
- d) 2, 3, 4

10 Observă sumele de bani pe care le are fiecare dintre cei 4 copii. Cine poate să cumpere o vioară?

**Încercuiește litera corespunzătoare răspunsului corect.**

Delia	
Matei	
Magda	
Patrick	

- a) Delia
- b) Matei
- c) Magda
- d) Patrick

